


Q1 この「ます」の中には、どんな花押（サイン）が、
かかっているかな？

次の中から、最も似ているものを2つ〇で選ぼう。



資料には3つの花押が確認できる。今回はそのうちの2つを出題した。左上は浅野長政の花押、右下は増田長盛の花押。

達人 Q2 下の地図の中の①～④の場所には今のどの建物が
あるかな？下の写真ア～エから、対応する建物を選ぼう。



ア 赤穂大石神社



神社は近代に創建された

イ 赤穂城三の丸大手門



赤穂城の玄関口

ウ 赤穂市立歴史博物館



藩の米蔵跡にそれをイメージして建設された

エ 花岳寺



浅野家の菩提寺

①	②	③	④
エ	ア	イ	ウ

Q3 赤穂事件（忠臣蔵）のなりゆきについて、図を正しい順に並びかえよう。

ア 【浅野^{ながのり}長矩の切腹】



イ 【赤穂城の受け渡し】



ウ 【吉良邸への討ち入り】



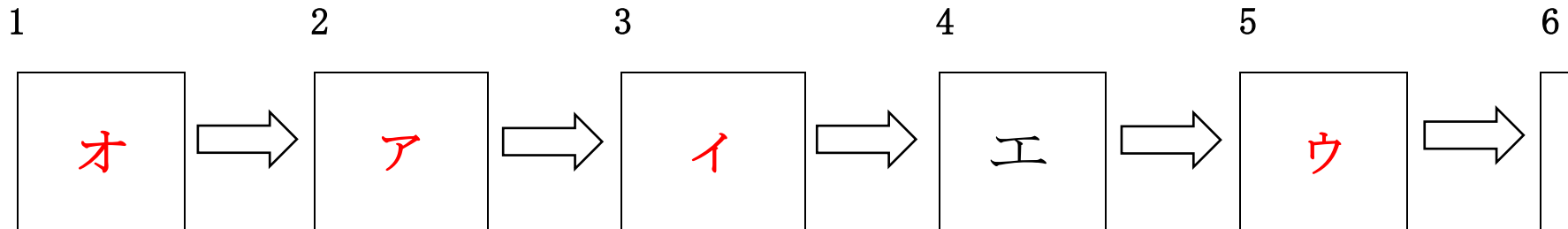
エ 【討ち入りを相談する浅野家臣団】



オ 【江戸城松の廊下の刃傷事件^{ろうか にんじょう}】

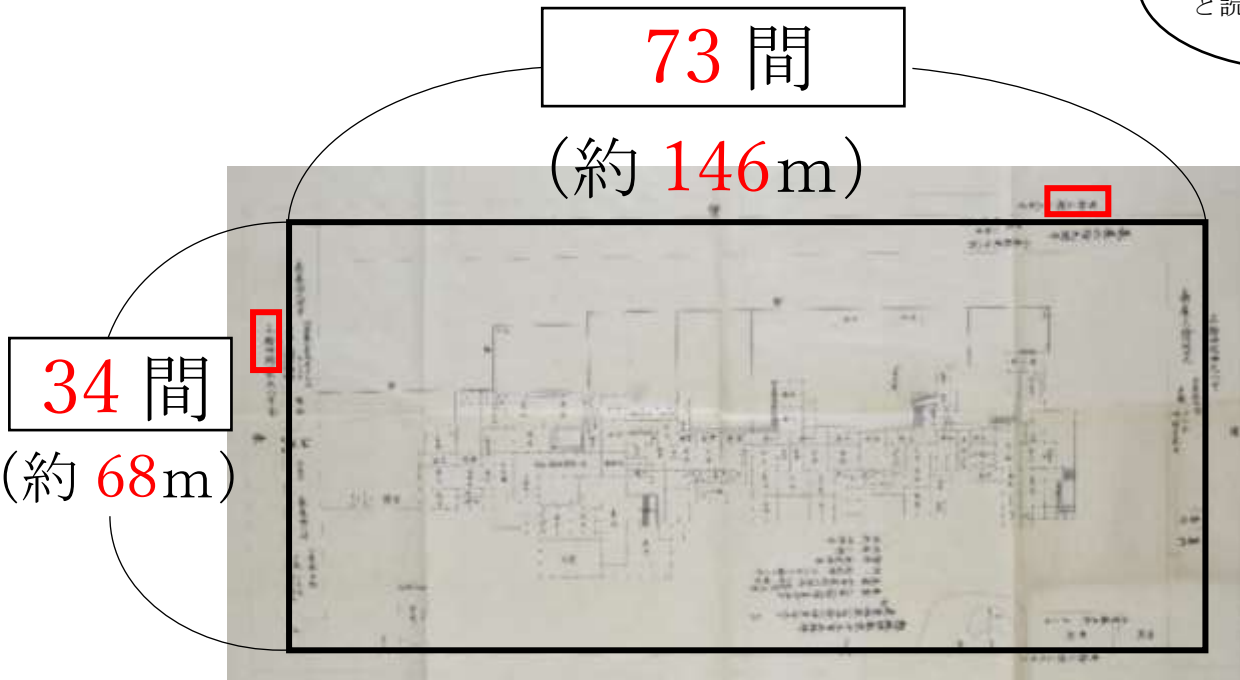


カ 【浪士たちの切腹】



達人 Q4 吉良邸 (家) の広さはどれくらいかな? 縦と横の長さを計算してみよう。

※ 1間を 2m で計算してみよう。



「拾」は、「じゅう」と読むんだよ!



【参考】

昔の長さの単位	
1間 ^{けん}	= 約 1.8 m
1尺 ^{しゃく}	= 約 30 cm
1寸 ^{すん}	= 約 3 cm

(例) 「一寸法師」は、身長約 3 cm

[計算してね]

①資料を読み取る

たて：三拾四間 (以下切り捨て) = 34 間

⇒単位の変換：34×2=68、約 68m

よこ：七拾三間 (以下切り捨て) = 73 間

⇒単位の変換：73×2=146m、約 146m

②図形の面積を計算

長方形 (※) の面積の求め方：(たて) × (よこ)

⇒68×146=9928

(答え) 9928 m²

※ この図形は厳密には台形となりますが、今回は長方形として計算しています。

※ 1間=2mの概数として計算しています。実際はこれよりも小さい値となります。

Q5 この吉良邸 (家) を見て、思ったことや感じたことを書いてみよう。

自由記述。なぜそう思ったのか、根拠をもって説明できているとよい。

Q6 主人の敵討ちを果たした大石内蔵助は切腹することになるね。

切腹しようとする大石内蔵助は、心の中でどんなことを思い願っているのだろう？

また、他の人はどんなことを思っているのかな。想像して書いてみよう。

自由記述。それぞれの立場
を考えたいうえで、根拠をも
って考えをのべることがで
きているとよい。

切腹を待つ浪士

大石内蔵助

幕府の役人

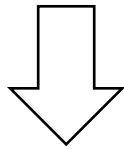


達人 Q7 この建物は今のどの学校かな？



(ヒント) 左上の文字を書いてみよう。

昔の「兵庫県立 **赤穂中学校**」



今の「兵庫県立 **赤穂高等学校**」

Q8 これは、何を作っているのかな？



(ヒント) 常設展ものぞいてみよう♪

塩

Q9 ①の地図の中にある4つの城の名前を書いてみよう。

高松城

赤穂城

姫路城

明石城

右の黄色で囲んだ部分

達人 Q10 ①の地図と②の地図（現代の地図）を比べて、対応する島や地名を4つ○でかこんでみよう。（解答例）右の赤い部分など

「あほし」は「網干」、
「むろ」は「室津」
のことだよ！



①



②

